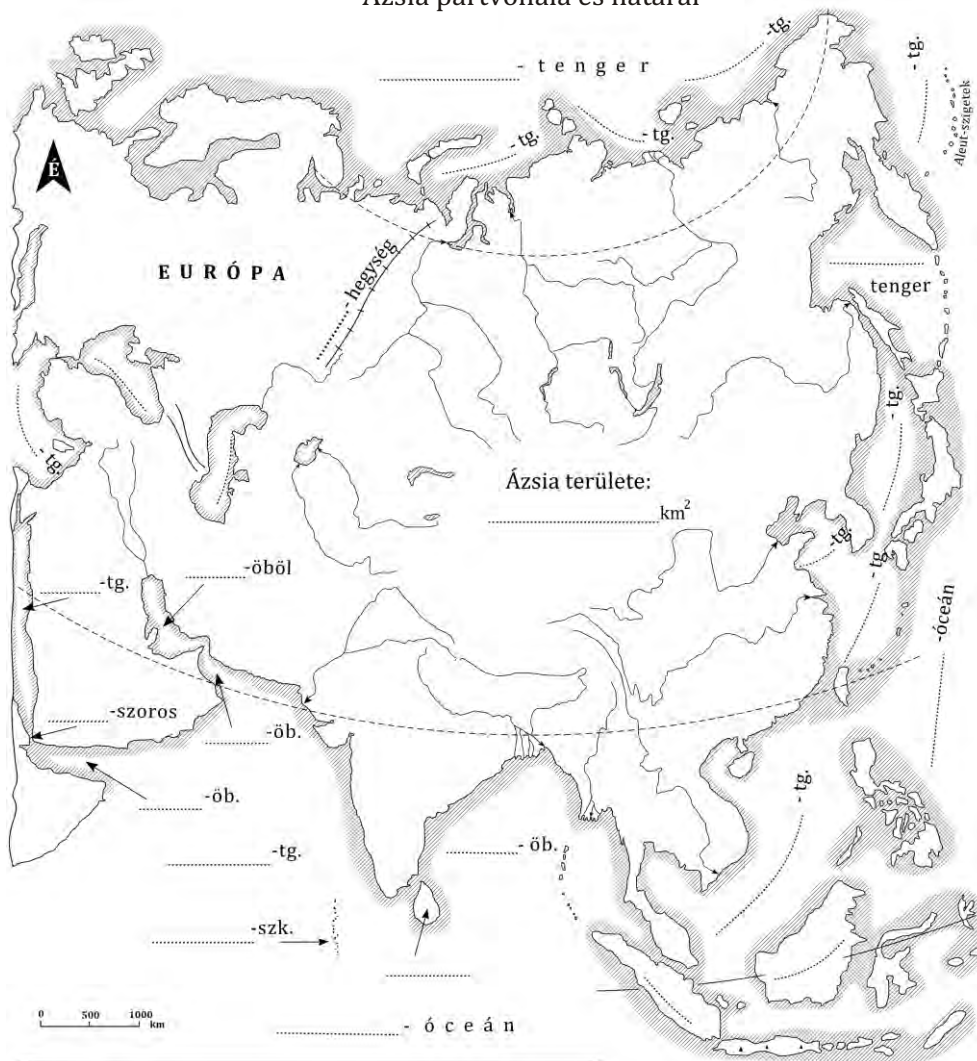


## Tartalomjegyzék

1. Ázsia partvonala és határai
2. Ázsia felszíne
3. Ázsia éghajlata
4. Ázsia vízhálózata
5. Ázsia természetes növényzete
6. Délnyugat-Ázsia
7. Dél-Ázsia
8. Délkelet-Ázsia
9. Belső- és Kelet-Ázsia
10. Közép-Ázsia
11. Észak-Ázsia
12. Világtérkép I.
13. Afrika partvonala és határai
14. Afrika felszíne
15. Afrika éghajlata
16. Afrika vízhálózata
17. Afrika természetes növényzete
18. Észak-Afrika: Atlasz vidék
19. Észak-Afrika: Szahara és Szudán terület országai
20. Ászak-Afrika: Felső (Észak)-Guineai partvidék
21. Egyenlítői (Közép)-Afrika
22. Kelet-Afrika
23. Dél-Afrika
24. Világtérkép II.
25. Amerika partvonala és határai
26. Amerika felszíne
27. Amerika éghajlata
28. Amerika vízhálózata
29. Amerika természetes növényzete
30. Észak-Amerika
31. Közép-Amerika
32. Dél-Amerika
33. Világtérkép III.
34. Ausztrália és Új Zéland
35. Ausztrália és Új Zéland felszíne
36. Ausztrália és Új-Zéland éghajlata és természetes növényzete
37. Antarktisz
38. Világtérkép IV.

## Ázsia partvonala és határai



1. Írjátok rá a térképvázlatra a kontinenst határoló óceánok, tengerek, szorosok, öblök (színezzétek kékre) és szigetek neveit.


2. Írjátok a térképvázlatra Ázsia nagyobb félszigeteinek a neveit és színezzétek őket különbözően.

Anatóliai-félsziget (barna),

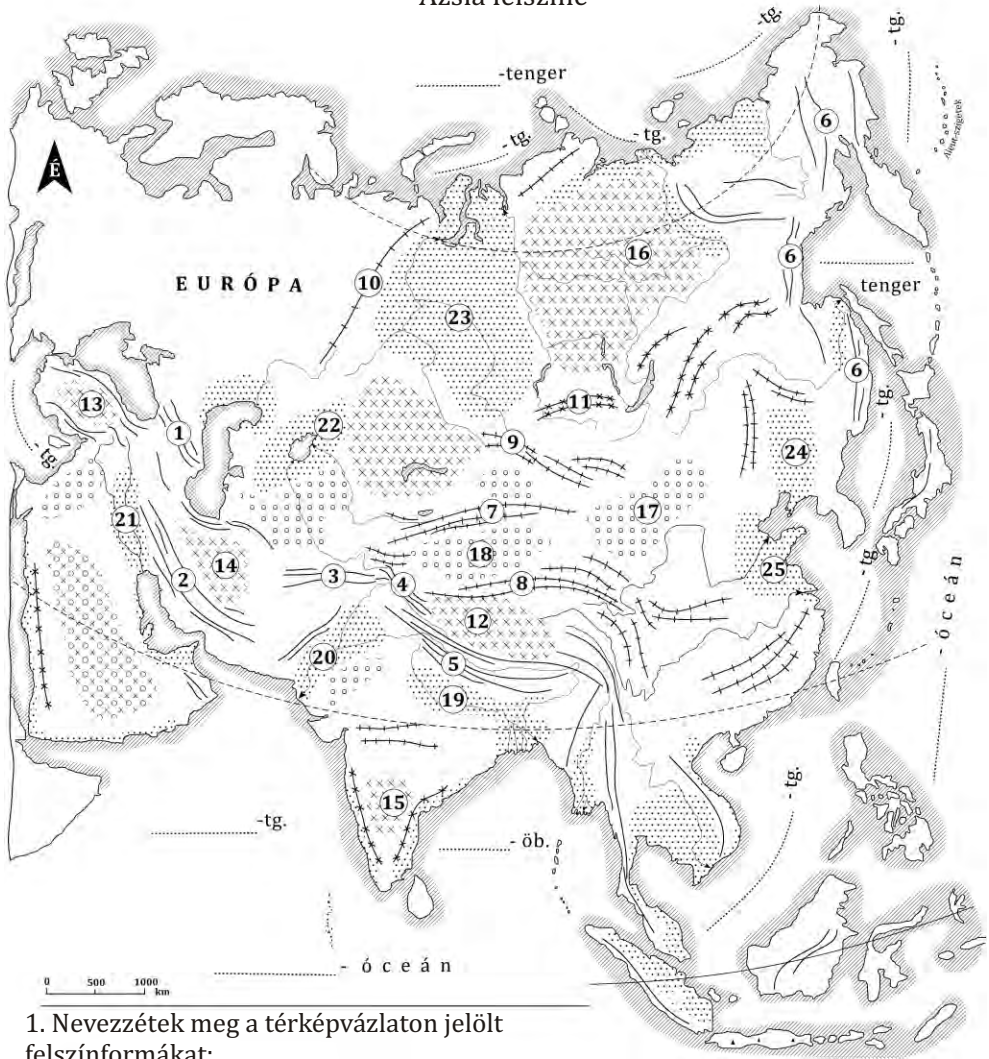
Arab-félsziget (sárga), Indiai- (Hindusztáni-) félsziget (piros),

Maláj-félsziget (lila), Indokínai-félsziget (zöld),

Koreai-félsziget (narancssárga), Kamcsatka-félsziget (rózsaszín).



## Ázsia felszíne



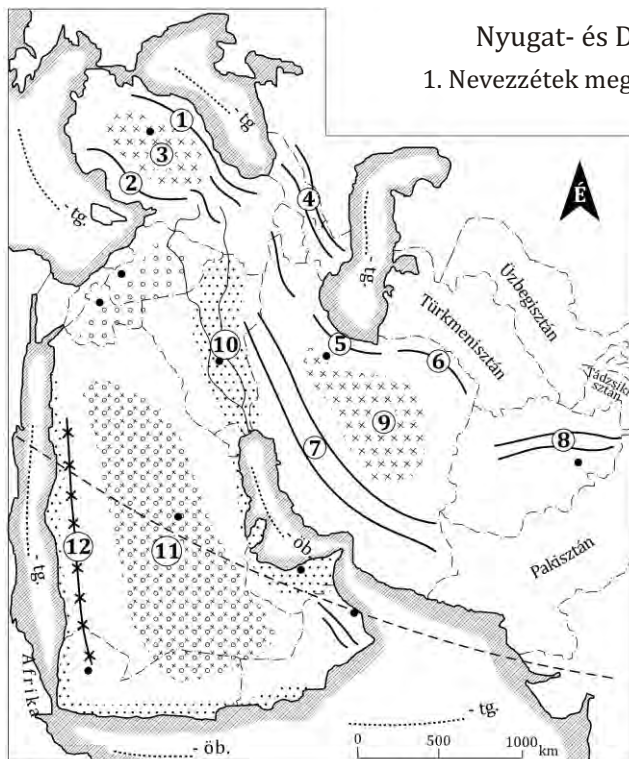
1. Nevezdék meg a térképvázlaton jelölt felszínformákat:

- |             |               |               |
|-------------|---------------|---------------|
| 1. ....-hg; | 10. ....-hg;  |               |
| 2. ....-hg; | 11. ....-hg.  |               |
| 3. ....-hg; | 12. ....-fns; | 19. ....-alf; |
| 4. ....-hg; | 13. ....-fns; | 20. ....-alf; |
| 5. ....-hg; | 14. ....-fns; | 21. ....-alf; |
| 6. ....-hg; | 15. ....-fns; | 22. ....-alf; |
| 7. ....-hg; | 16. ....-fns; | 23. ....-alf. |
| 8. ....-hg; | 17. ....-siv; | 24. ....-alf; |
| 9. ....-hg; | 18. ....-siv; | 25. ....-alf. |



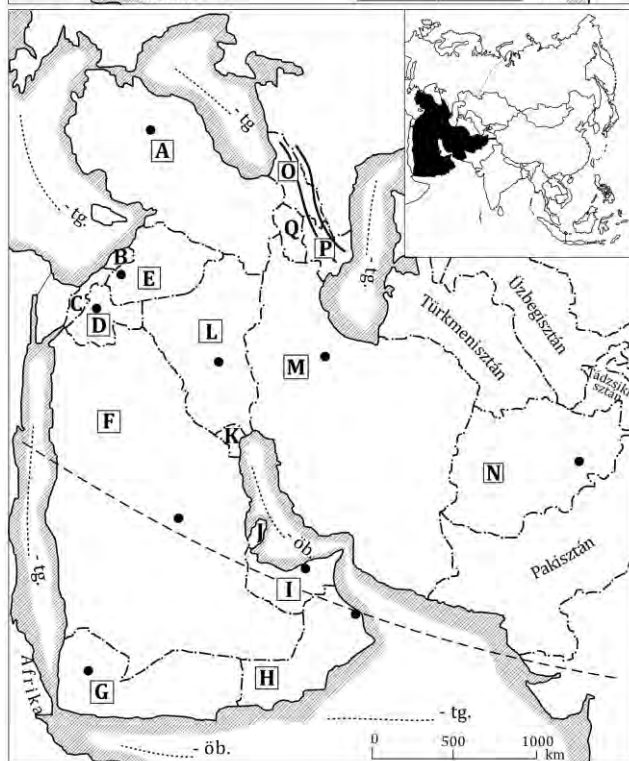
## Nyugat- és Délnyugat-Ázsia

1. Nevezzék meg a térkép-vázlaton jelölt felszíninformákat:



1. ....-hg.
2. ....-hg.
3. ....-fns.
4. ....-hg.
5. ....-hg.
6. ....-hg.
7. ....-hg.
8. ....-hg.
9. ....-fns.
10. ....-alf.
11. ....-siv.
12. ....-hg.

2. Nevezzék meg a térkép-vázlaton jelölt országokat:



- A. ....
- B. ....
- C. ....
- D. ....
- E. ....
- F. ....
- G. ....
- H. ....
- I. ....
- J. ....
- K. ....
- L. ....
- M. ....
- N. ....
- O. ....
- P. ....
- Q. ....



## Amerika éghajlata

